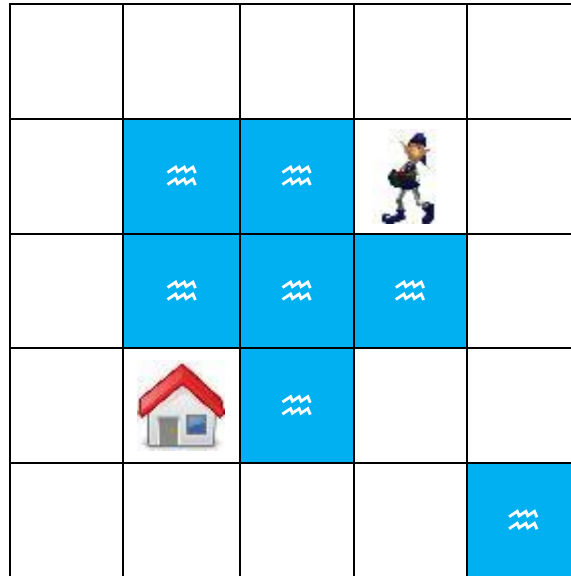


CYCLE 2

DÉPLACE TON LUTIN

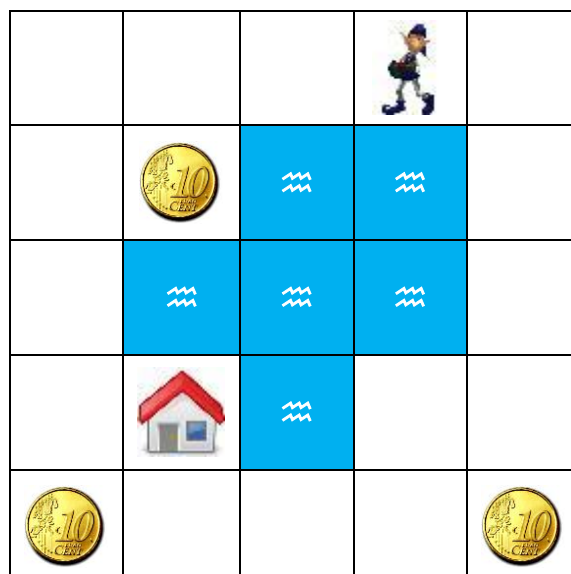
Degré de
difficulté : 1

Écris un programme permettant au lutin de rejoindre sa maison.
Attention, il ne peut pas aller dans l'eau !



Degré de
difficulté : 2



















Écris un programme permettant au lutin de rejoindre sa maison.
Attention, il ne peut pas aller dans l'eau et doit récupérer une pièce.



DÉPLACE TON LUTIN

Degré de
difficulté : 3

Écris un programme permettant au lutin de rejoindre sa maison.
Attention,
- il ne peut pas aller dans l'eau,
- il ne peut pas revenir en arrière,
- il doit récupérer une pièce de chaque couleur.

CYCLE 2

LA COURSE DE ROLLERS

Degré de
difficulté : 1



Quatre enfants se sont affrontés lors d'une course de rollers.
Marc est arrivé avant Leïla mais il n'est pas troisième de la course.
Lucie n'est pas arrivée après un garçon.
Antoine est arrivé le dernier.

Dans quel ordre sont arrivés ces enfants ?

Degré de
difficulté : 2



Cinq enfants se sont affrontés lors d'une course de rollers.
Marc a battu Antoine.
Safia n'a pas battu Elodie.
Marc est arrivé juste avant Safia.
Lucie est arrivée juste avant un garçon.

Dans quel ordre sont arrivés ces enfants ?

Degré de
difficulté : 3



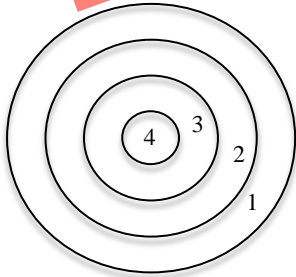
Six enfants se sont affrontés lors d'une course de rollers.
Marc est arrivé avant Marie mais il n'est pas troisième de la course.
Lucie n'est pas arrivée après un garçon.
Antoine est arrivé le dernier.
Kévin est arrivé entre deux filles.
Safia est arrivée juste avant Antoine.

Dans quel ordre sont arrivés ces enfants ?

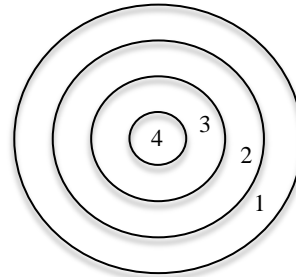
LES CIBLES

CYCLE 2

Degré de
difficulté : 1



Enzo

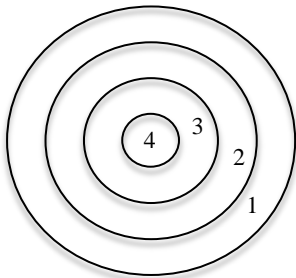


Élise

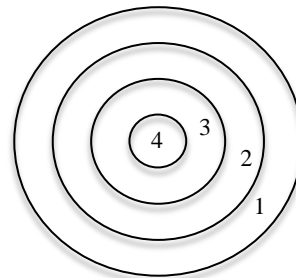
Enzo et Élise lancent des flèches sur une cible. Ils lancent 3 flèches chacun. Toutes les flèches atteignent la cible.

Enzo a marqué 10 points et Élise a marqué 11 points en lançant 3 flèches chacun.

Où Enzo et Élise ont-ils lancé leurs flèches ?



Marc

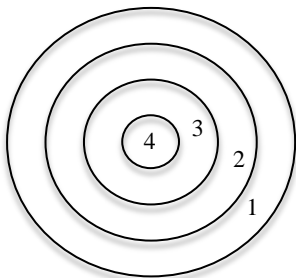


Manon

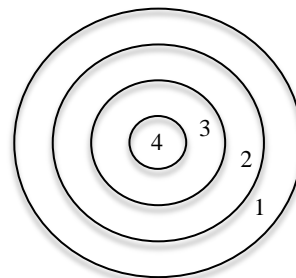
Degré de
difficulté : 2

Marc et Manon font du tir à l'arc. Ils tirent 4 flèches chacun. Toutes les flèches atteignent la cible. Marc a marqué 12 points et Manon a marqué 11 points en lançant 4 flèches chacun.

Où Marc et Manon ont-ils planté leurs flèches ?



Luc



Jeanne

Degré de
difficulté : 3

Luc et Jeanne font du tir à l'arc. Ils tirent 5 flèches chacun. Toutes les flèches atteignent la cible. Luc a marqué 15 points et Jeanne a marqué 17 points en lançant 5 flèches chacun.

Où Luc et Jeanne ont-ils planté leurs flèches ?